



YO APRENDER 3

FICHA DESCARGABLE 2

Para resolver los siguientes problemas, podés utilizar el material recortable (páginas 133 y 135).

1. Los chicos de 3.º grado están jugando con dados. Tiran 4 dados y deben elegir el número que forman. Quien forma el número más grande, gana.


a. Ezequiel y Cecilia tiraron cada uno los siguientes dados. ¿Cómo formarías los números para que gane Ezequiel? ¿Cómo lo harías para que gane Cecilia?



b. ¿Cuál es el número más grande que podrías formar con los dados de Ezequiel? ¿Y con los dados de Cecilia?

2. Representá, dibujando los elementos del multibase, el número más grande que puede formar cada uno de ellos con los dados que sacaron.

2. Escribí todos los números que podés formar con los siguientes dados:



a. Ordenalos de menor a mayor.
